

# ĐỀ KIỂM TRA – ÔN TẬP TOÁN CUỐI KÌ 2 LỚP 1

Họ và tên học sinh:.....Lớp:.....

## Đề 1

**PHẦN I:** Khoanh tròn vào chữ trước câu trả lời đúng:

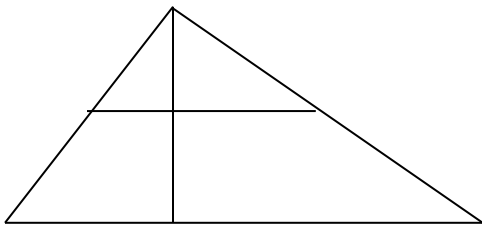
**Câu 1.** số 55 đọc là:

- a. năm năm                      b. năm mươi năm                      c. năm mươi lăm

**Câu 2.** Một tuần lễ em đi học :

- a. 5 ngày                      b. 6 ngày                      c. 7 ngày

**Câu 3.** Hình vẽ bên có:



- a. 5 hình tam giác  
b. 6 hình tam giác  
c. 7 hình tam giác


**Câu 4.** Các số 34, 81, 67, 75 được viết theo thứ tự từ bé đến lớn là:

- a. 81, 75, 67, 34                      b. 34, 67, 75, 81                      c. 81, 34, 75, 67

**Câu 5.**  $45 - \square = 20$ . Số cần điền vào ô trống là:

- a. 20                      b. 25                      c. 65

**Câu 6:** A. Đồng hồ bên chỉ mấy giờ?



- a. 12 giờ                      b. 1 giờ                      c. 2 giờ

B. Nếu hôm nay là thứ ba ngày 18 tháng 5 thì ngày kia là thứ

- a. Thứ tư ngày 19 tháng 5  
b. Thứ năm ngày 20 tháng 5  
c. Thứ sáu ngày 21 tháng 5



# ĐỀ KIỂM TRA – ÔN TẬP TOÁN CUỐI KÌ 2 LỚP 1

Họ và tên học sinh:.....Lớp:.....

## Đề 2

**I. Phần trắc nghiệm:** Khoanh tròn vào đáp án đặt trước câu trả lời đúng:

**Câu 1:** Số gồm 6 chục và 6 đơn vị được viết là:

A. 606	B. 6	C. 66	D. 60
--------	------	-------	-------

**Câu 2:** Số lớn nhất trong các số 42, 63, 19, 3 là:

A. 42	B. 63	C. 19	D. 3
-------	-------	-------	------

**Câu 3:** Số liền trước số 51 là số:

A. 53	B. 52	C. 51	D. 50
-------	-------	-------	-------

**Câu 4:** Dấu thích hợp để điền vào chỗ chấm  $52 \dots 95$  là

A. <	B. >	C. =		
------	------	------	--	--

**Câu 5:** Kết quả của phép tính  $15 + 4$  là:

A. 20	B. 19	C. 18	D. 17
-------	-------	-------	-------

**Câu 6:** Đúng ghi Đ sai ghi S

a.  $45 - 35 + 20 = 30$

b.  $76 \text{ cm} - 32 \text{ cm} = 44$

c.  $90 \text{ cm} - 30 \text{ cm} = 60 \text{ cm}$

## PHẦN II : Tự luận

**Câu 7.** Đặt tính rồi tính

$15 + 23$

$6 + 43$

$57 - 34$

$66 - 30$

$84 - 34$

$79 - 7$

.....  
.....  
.....

**Câu 8.** Điền dấu  $>$ ,  $<$ ,  $=$

$24 - 2 \dots 33 - 11$

$21 + 25 \dots 58 - 32$

$13 + 34 \dots 78 - 30$


$45 - 4 \dots 34 + 5$

**Câu 9.** Sơn và Minh gấp được 37 cái thuyền, riêng bạn Minh gấp được 22 cái thuyền . Hỏi Sơn gấp được bao nhiêu cái thuyền?

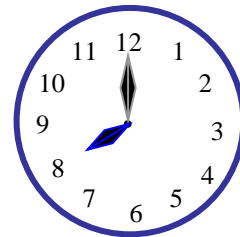
--	--	--	--	--

Viết câu trả lời:.....

**Câu 10.** Đồng hồ chỉ mấy giờ ?



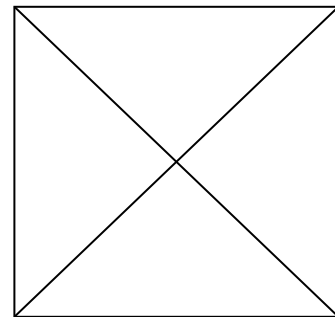
.....



.....

**Câu 11.** Hình sau có bao nhiêu hình ?

Trả lời: Có .....hình tam giác  
Có ..... Hình vuông.



**Câu 12\*:** Năm nay anh 20 tuổi và em 6 tuổi. Hỏi **sang năm** hai anh em có tất cả bao nhiêu tuổi?

--	--	--	--	--

Viết câu trả lời:.....

# ĐỀ KIỂM TRA – ÔN TẬP TOÁN CUỐI KÌ 2 LỚP 1


Họ và tên học sinh:.....Lớp:.....

## Đề 3

### Bài 1: Viết số thích hợp vào ô trống

a. Xem đồng hồ bên và số thích hợp vào chỗ chấm :

Đồng hồ chỉ :..... giờ



b. 1 tuần lễ có .....ngày

### Bài 2: Nối phép tính với kết quả giống nhau : M1

$47 - 13$
$34 + 5$
$77 - 25$
$20 + 6$

$78 - 52$
$30 + 9$
$11 + 23$
$52$

### Bài 3 : Đúng ghi Đ, sai ghi S

a,  $60 \text{ cm} - 10 \text{ cm} = 50$

b,  $60 \text{ cm} - 10 \text{ cm} = 50 \text{ cm}$

c,  $60 \text{ cm} + 10 \text{ cm} = 40 \text{ cm}$

### Bài 4 :Viết số thích hợp vào chỗ chấm

$7 \dots$	$5 \ 4$	$\dots 9$	$6 \dots$
+	-	+	-
$\underline{1 \ 2}$	$\underline{2 \ \dots}$	$\underline{1 \ 0}$	$\underline{2 \ \dots}$
$\dots 7$	$\dots 0$	$4 \dots$	$4 \ 4$



## ĐỀ KIỂM TRA – ÔN TẬP TOÁN CUỐI KÌ 2 LỚP 1

Họ và tên học sinh:.....Lớp:.....

### Đề 4

#### Câu 1

a/ Số gồm 5 chục và 4 đơn vị được viết là:

- A. 45                      B. 54                      C. 50                      D. 40

b/ Số “sáu mươi tư” được viết là:

- A. 64                      B. 46                      C. 60                      D. 40

Câu 2. Trong các số 36, 19, 92, 49 số lớn nhất là số:

- A. 36                      B. 19                      C. 92                      D. 49

Câu 3. Đồng hồ dưới đây chỉ mấy giờ?



- A. 6 giờ  
B. 3 giờ  
C. 12 giờ  
D. 9 giờ

Câu 4. Bàn học của em dài khoảng:

- A. 5cm                      B. 8 gang tay                      C. 30 bước chân                      D. 1cm

Câu 5. Nếu thứ ba là ngày 12 thì thứ sáu tuần đó là:

- A. Ngày 15                      B. Ngày 16                      C. Ngày 17                      D. Ngày 18

a) Câu 6: Số nào là số tròn chục:

- A. 88                      B. 70                      C. 19                      D. 99

**Câu 7.** Đặt tính rồi tính:

$35 + 4$

$17 - 5$

$25 + 12$

$98 - 47$

.....	.....	.....	.....
.....	.....	.....	.....
.....	.....	.....	.....
.....	.....	.....	.....

**Câu 8.** Sắp xếp các số 64, 14, 73, 29, 70 theo thứ tự :

Từ lớn đến bé : .....

**Câu 9.** Mẹ đi chợ mua 27 quả trứng. Mẹ biếu bà 1 chục trứng. Hỏi mẹ còn lại bao nhiêu quả trứng

--	--	--	--	--

a. Viết phép tính:

b. Viết câu trả lời:

.....

**Câu 10.** Điền số thích hợp vào chỗ chấm:

Hình dưới đây có ... hình tam giác.

