


Họ và tên : Lớp 1

BÀI TẬP ĐẾM HÌNH

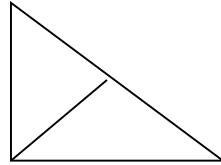
(Con đếm rồi đánh số vào hình và ghi những hình ghép)

Bài 1 : Cho hình vẽ

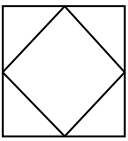
Có hình vuông



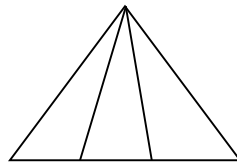
Có hình tam giác. Đó là :



Bài 2 : Cho hình vẽ :



Có hình vuông

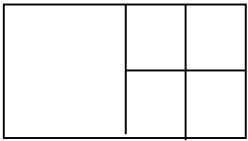


Có hình tam giác

Có hình tam giác

Đó là :

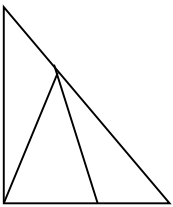
Bài 3 : Cho hình vẽ :



Có hình vuông

Đó là :

Bài 4 : Cho hình vẽ :

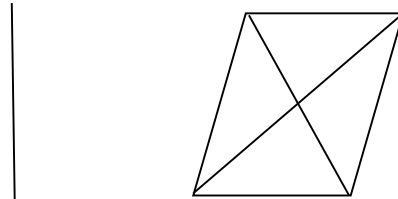


Có hình tam giác

Đó là :

.....

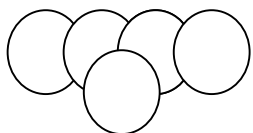
.....



Có hình tam giác

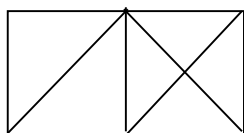
Đó là :

Bài 5 : Cho hình vẽ :



Có hình tròn

.....
Cô Huyền – Tài liệu cho con học tiểu học.



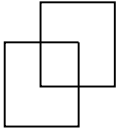
Có hình vuông

Có hình tam giác

Đó là :

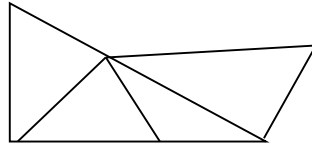
.....

Bài 6 : Cho hình vẽ :



Có hình vuông

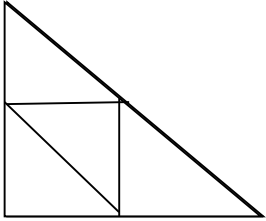
Đó là :



Có hình tam giác

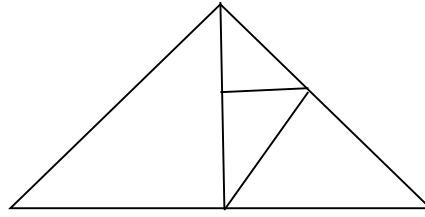
đó là :

Bài 7 : Cho hình vẽ :



Có hình tam giác

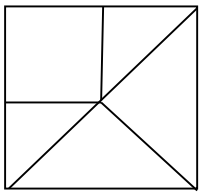
Đó là :



Có hình tam giác

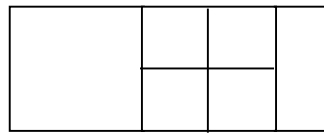
đó là :

Bài 8 : Cho hình vẽ :



Có hình tam giác

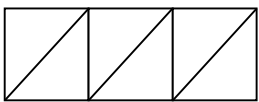
Đó là :



Có hình vuông

Đó là :

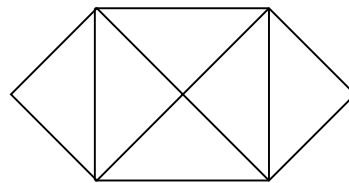
BÀI 9 : Cho hình vẽ :



Có hình vuông

Có hình tam giác

Đó là :

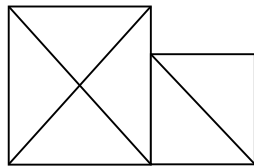
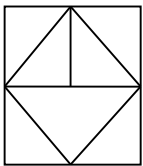


Có hình vuông

Có hình tam giác

đó là :

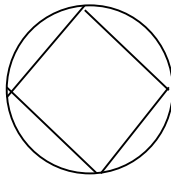
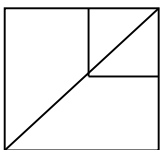
Bài 10 : Cho hình vẽ :



Có hình vuông
Có hình tam giác
Đó là :

Có hình vuông
Có hình tam giác
Đó là :

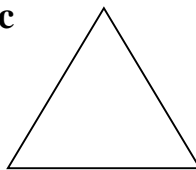
Bài 11 : Cho hình vẽ :



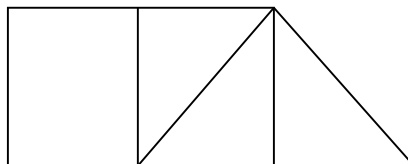
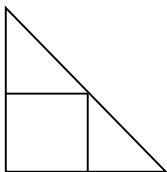
Có hình vuông
Có hình tam giác
Đó là :

Có hình vuông
Có hình tròn
Đó là :

Bài 12 : vẽ thêm 1 đoạn thẳng để có 3 hình tam giác



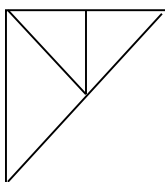
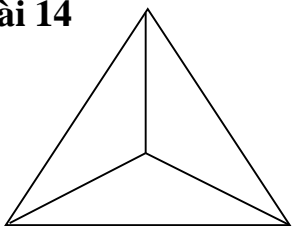
Bài 13 : Cho hình vẽ :



Có hình vuông
Có hình tam giác
Đó là :

Có hình vuông
Có hình tam giác
Đó là :

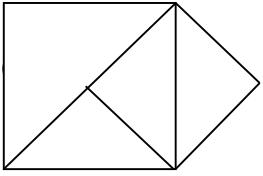
Bài 14



Có hình vuông
Có hình tam giác
Đó là :

Có hình vuông
Có hình tam giác
Đó là :

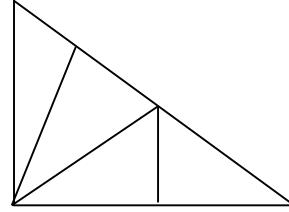
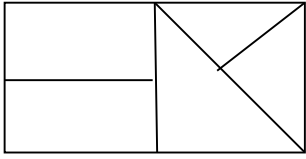
Bài 15 : Cho hình vẽ :



Có hình vuông
 Có hình tam giác

đó là :

Bài 16 : Cho hình vẽ :



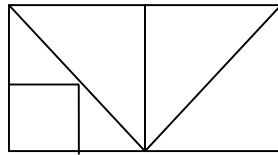
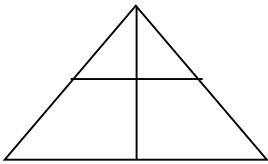
Có hình vuông
 Có hình tam giác

Đó là :

Có hình tam giác

đó là :

Bài 17 : Cho hình vẽ :



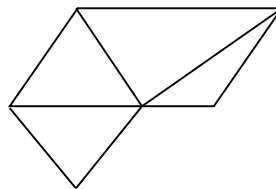
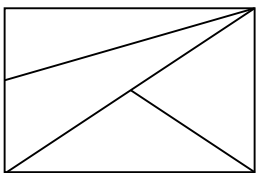
Có hình vuông
 Có hình tam giác

Đó là :

Có hình vuông
 Có hình tam giác

Đó là :

Bài 18 : Cho hình vẽ :



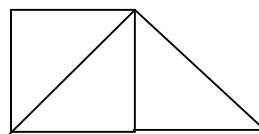
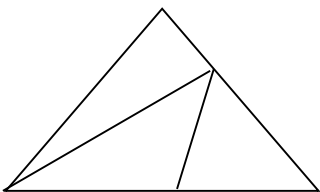
Có hình vuông
 Có hình tam giác

Đó là :

Có hình vuông
 Có hình tam giác

đó là :

Bài 19 : Cho hình vẽ :



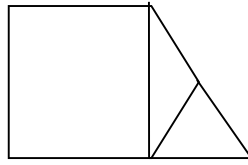
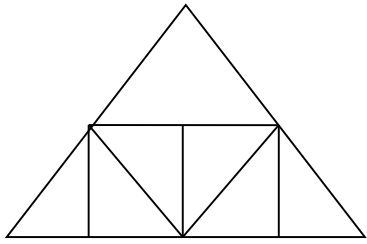
Có hình tam giác

Đó là :

Có hình vuông
 Có hình tam giác

đó là :

.....
Bài 20 : Cho hình vẽ :



Có hình vuông

Có... hình tam giác

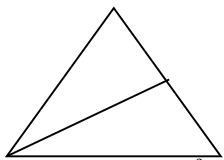
Đó là :

Có hình vuông

Có ... hình tam giác

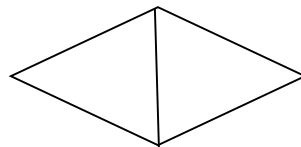
đó là :

.....
Bài 21 : Cho hình vẽ :



Có đoạn thẳng

Đó là :

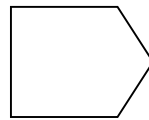


Có đoạn thẳng

Đó là :

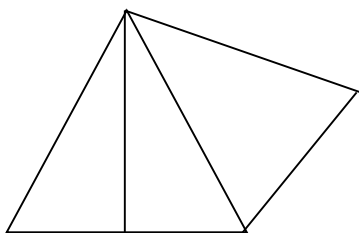
.....
Bài 22 : Cho hình vẽ :

Vẽ thêm 1 đoạn thẳng để có 1 hình vuông
và 1 hình tam giác



Bài 23 : Vẽ đoạn thẳng AB dài 1 dm ?
.....

Bài 24 hình dưới đây

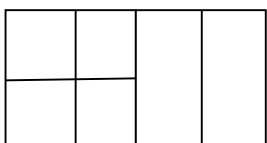


Có hình tam giác

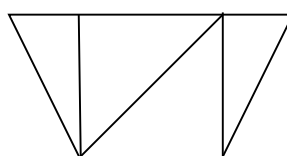
Có đoạn thẳng

Đó là :

.....
Bài 25 : Cho hình vẽ :



Có hình vuông

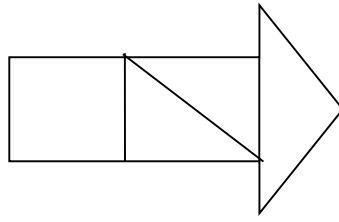
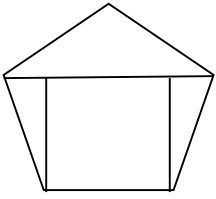


Có hình vuông

CÓ ... hình tam giác

Đó là : | đó là :

Bài 26 : Cho hình vẽ :

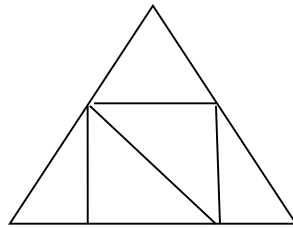
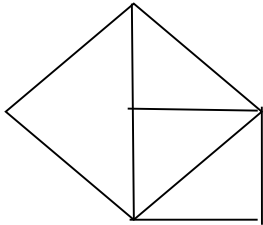


Có hình vuông

Có hình tam giác

Đó là : | đó là :

Bài 27 : Cho hình vẽ :



Có hình vuông

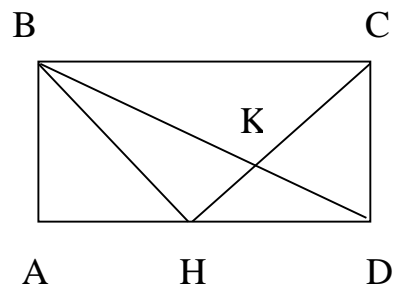
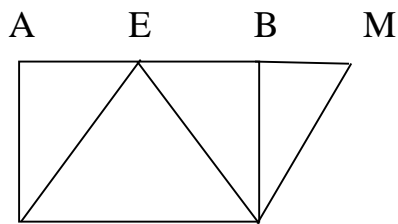
Có hình tam giác

Đó là : | đó là :

Có :đoạn thẳng

Có : đoạn thẳng

Bài 28 : Hình bên có :



Có : điểm

Có : hình tam giác. Đó là :

.....

Có : đoạn thẳng. Đó là :

.....

Có :điểm

Có : hình tam giác.Đó là :

.....

Có :đoạn thẳng. Đó là :

.....